

Mathe mit Mieze Mia

Mia zählt Geld


Ein Heft von _____




Welche Scheine?

8


Mieze Mia soll im Geschäft bezahlen. Male auf, welche Scheine sie braucht.




65 €




15 €




90 €



70 €



45 €



95 €

Tipp: Lege den Betrag mit deinem Rechengeld.



1

Wie viel Euro?

Zähle das Geld zusammen. Schreibe den Betrag unter das Kästchen.



€



€



€



€



€




€




9

Welche Münzen?


Mieze Mia soll im Geschäft bezahlen. Male auf, welche Münzen sie braucht.




7 € und 22 ct




10 € und 13 ct




3 € und 54 ct



2 € und 99 ct



9 € und 31 ct



11 € und 23 ct

Tipp: Lege den Betrag mit deinem Rechengeld.




Wie viel Euro?

2

Zähle das Geld zusammen. Schreibe den Betrag unter das Kästchen.




€




€




€



€



€




€




Immer 8 €!

10


Mieze Mia soll 8€ bezahlen. Finde 6 verschiedene Möglichkeiten




8 €




8 €




8 €



8 €



8 €



8 €

Tipp: Lege den Betrag mit deinem Rechengeld.



Wie viel Euro?

3

Zähle das Geld zusammen. Schreibe den Betrag unter das Kästchen.



€



€



€



€



€




€




Immer 75 ct !

11


Mieze Mia soll 75 ct bezahlen. Finde 6 verschiedene Möglichkeiten




75 ct




75 ct




75 ct



75 ct



75 ct



75 ct

Tipp: Lege den Betrag mit deinem Rechengeld.



Wie viel Cent?

Zähle das Geld zusammen. Schreibe den Betrag unter das Kästchen.



ct



ct



ct



ct



ct



ct



Was fehlt hier?

Hier fehlt noch Geld. Male die fehlenden Münzen dazu.



3 € 33 ct



6 € 90 ct



5 € 66 ct



7 € 9 ct



8 € 52 ct



4 € 84 ct

Wie viel Euro, wie viel Cent?



5

Zähle das Geld zusammen. Schreibe den Betrag unter das Kästchen.



€ ct



€ ct



€ ct



€ ct



€ ct



€ ct

Was fehlt hier?




13


Hier fehlt noch Geld. Male die fehlenden Scheine dazu.



75 €




35 €




90 €



55 €



80 €




60 €




Welche Münzen?

6


Mieze Mia soll im Geschäft bezahlen. Male auf, welche Münzen sie braucht.




9 €




3 €




12 €



7 €



10 €



8 €

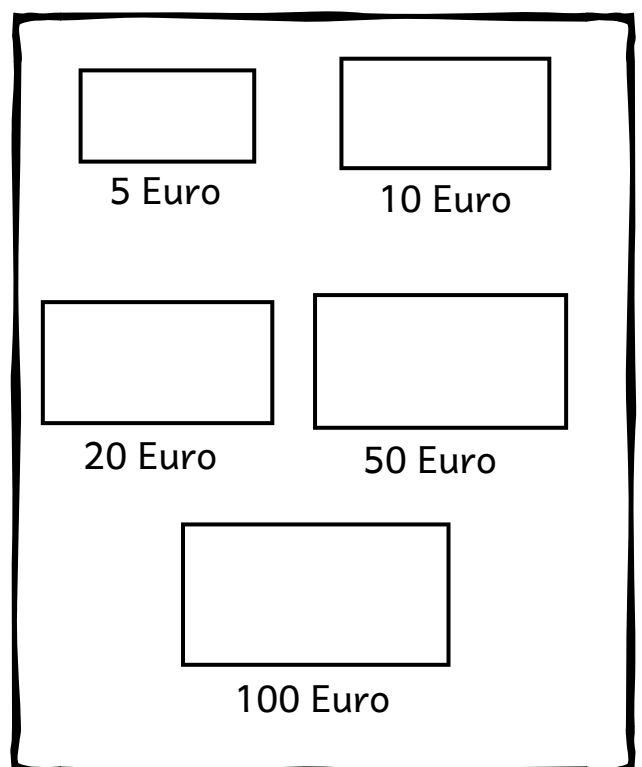

Tipp: Lege den Betrag mit deinem Rechengeld.



Münzen und Scheine

14

Male hier auf, wie unsere Münzen und Scheine aussehen!







Welche Münzen?

7


Mieze Mia soll im Geschäft bezahlen. Male auf, welche Münzen sie braucht.




53 ct




38 ct




84 ct



99 ct



27 ct



65 ct


Tipp: Lege den Betrag mit deinem Rechengeld.

Puh!

Das war anstrengend.
Brauchst du jetzt eine Pause?

Es gibt von mir noch
viele weitere Hefte
mit tollen Aufgaben!
So wirst auch du zur
Mathe-Katze!

Deine Mia



OPEN EDUCATIONAL RESOURCES

Dieses Heft wurde von Florian Emrich erstellt und auf
wiki.zum.de unter cc-by 4.0 veröffentlicht